

**KÜSIMUSED 10.-12. KLASSILE**

Nimi .....

Kool ..... Klass.....

Geograafiaõpetaja.....

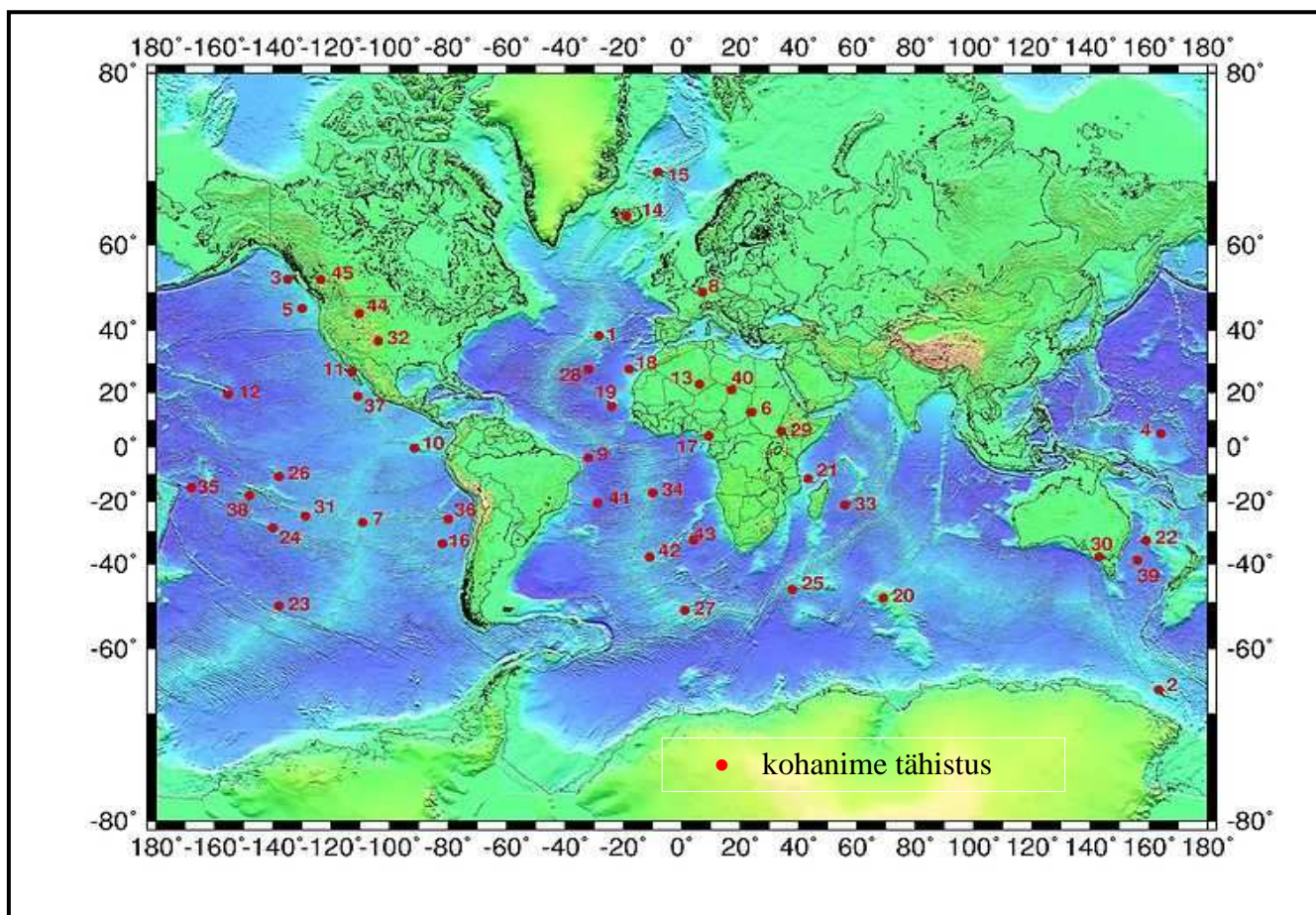
**1. Millist osa on etendanud mäed Euroopa kaasaegse poliitilise ja majandusliku kaardi kujunemisel? 3 p**

.....

.....

.....

.....



**2. Millise loodusnähtuse levikut kujutatakse kaardil? .....**

**1 p**

**Analüüsi loodusnähtuse tagajärgi.**

**4 p**

Tagajärg	Positiivne	Negatiivne
Looduslik		
Majanduslik		

3. Loetle looduslikud tegurid, mis muudavad maakera kõrgeimate punktide , tema „kaheksatuhandelis- te“ vallutamise isegi kaasajal äärmiselt keerukaks ning suurt mehisust nõudvaks ettevõtmiseks? 2 p

a)..... b).....

c)..... d).....

4. Miks ühe riigi kodanikud võivad väita: „ Sandurid kujunevad meil ka praegu ja sõna “sandur” on meie keelest maailma geomorfoloogia sõnavarasse jõudnud.” 4 p

See riik on.....Põhjendus:.....

.....

.....

Miks Eestis on sandurid kollaka värvusega aga selles riigis mustad?.....

.....

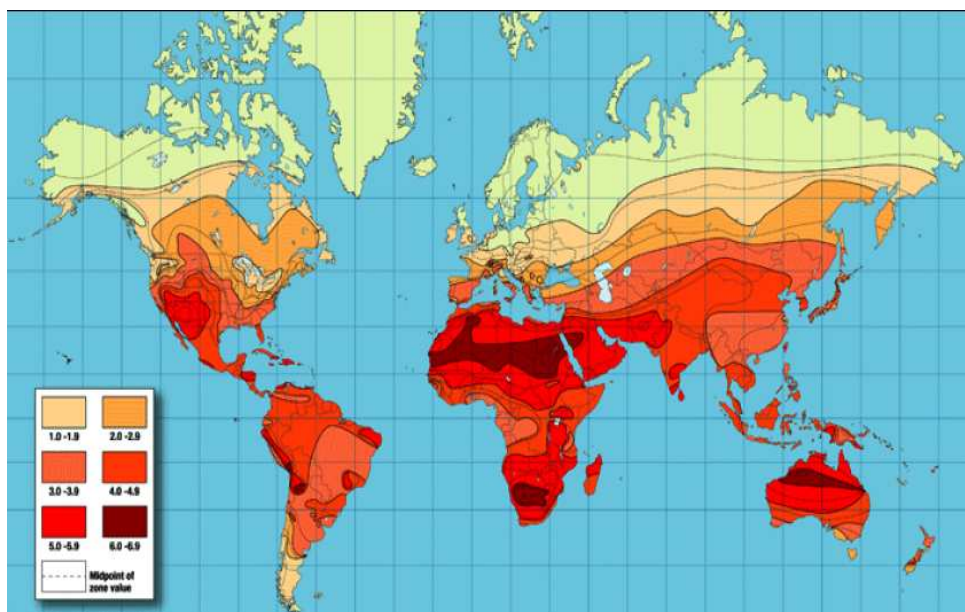
.....

5. Joonisel on kujutatud ühe alternatiivenergia kasutamise võimaluste kaarti. 3p

Millise? ..... Põhjenda oma valikut .....

.....

.....



Miks samadel laiustel Kanada lõunaosas on antud alternatiiv-energia potentsiaal suurem kui Rootsi lõunaosas? 2p

6. Millega võib seletada Euroopa ja Põhja-Ameerika maantee- ja raudteevõrgu erinevusi? 2p

.....

.....

.....

.....

**7. Missugused majandusgeograafilised objektid peituvad nende nimede taga?**

**3 p**

Nabucco, Nord Stream, South Stream - .....

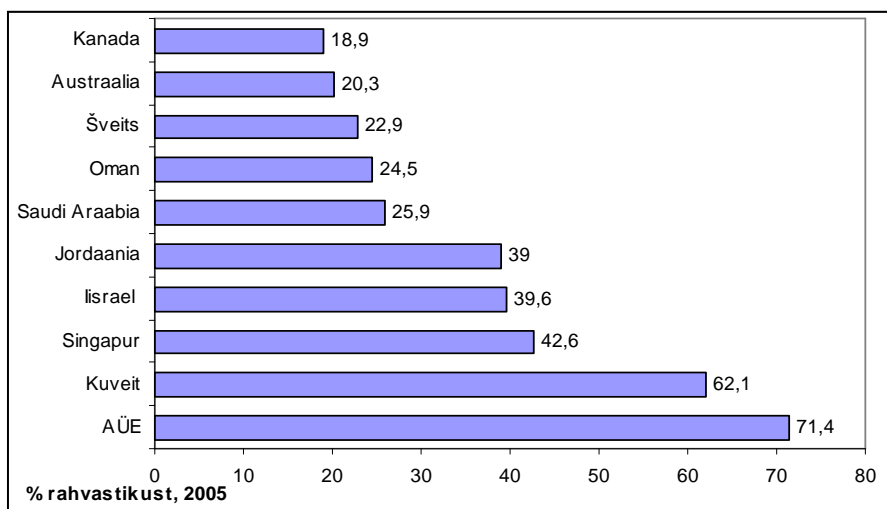
**Mille poolest erineb teistest Nabucco?** .....

.....  
.....  
.....

**8. Kirjuta joonisele sobiv pealkiri, mis kajastaks võimalikult täpselt riikide reastatust.**

**1 p**

.....



**Miks A ÜE on see näitaja nii kõrge?**

**2 p**

**9. Miks oli Lääne-Euroopal 17.-18. sajandil kergem üle**

**elada rahvastiku plahvatust kui arengu-maadel 20. sajandil? 2p**

.....  
.....  
.....

**10. Euroopa suurim sadam on ..... Selgita looduslikke ja majanduslikke eeldusi, miks on just sellest linnast kujunenud Euroopa suurim sadam. 3 p**

.....  
.....  
.....

**11. Kaspia mere piirkonna riikidel on suured nafta- ja gaasivarud. Mis on selle piirkonna geograafiline eripära teiste naftariikidega võrreldes? 2 p**

.....  
.....

**12. Hiina on paljude põllukultuuride suurtootja. Kaartidel on toodud Hiina viie peamise kultuurtaime kasvatuspiirkonda.**



**Milline kaart annab ülevaate puuvilla, sojaoa, maisi, nisu ja riisi kasvatuspiirkondadest? 2,5 p**

A ..... B ..... C .....  
D ..... E .....

**Põhjenda oma otsuseid:**

**3 p**

**Milline väide on Hiina kohta tõene, milline väär? Tähista õige valik.**

**1,5 p**

- 1) Hiina on maailma suurim maisitootja
- 2) Hiina on nisu tootmise liider maailmas
- 3) Hiina on tee tootmise ja ekspordi liider

Tõene/Väär  
Tõene/Väär  
Tõene/Väär

**13. Milliseid põhimõtteid (meetodeid) rakendatakse mahepõllunduses? 4 p**

- 1) .....
- 2).....
- 3) .....
- 4) .....

**Nimeta 2 riiki, kus on mahepõlde riigi põllupindalast kõige rohkem**

.....1p

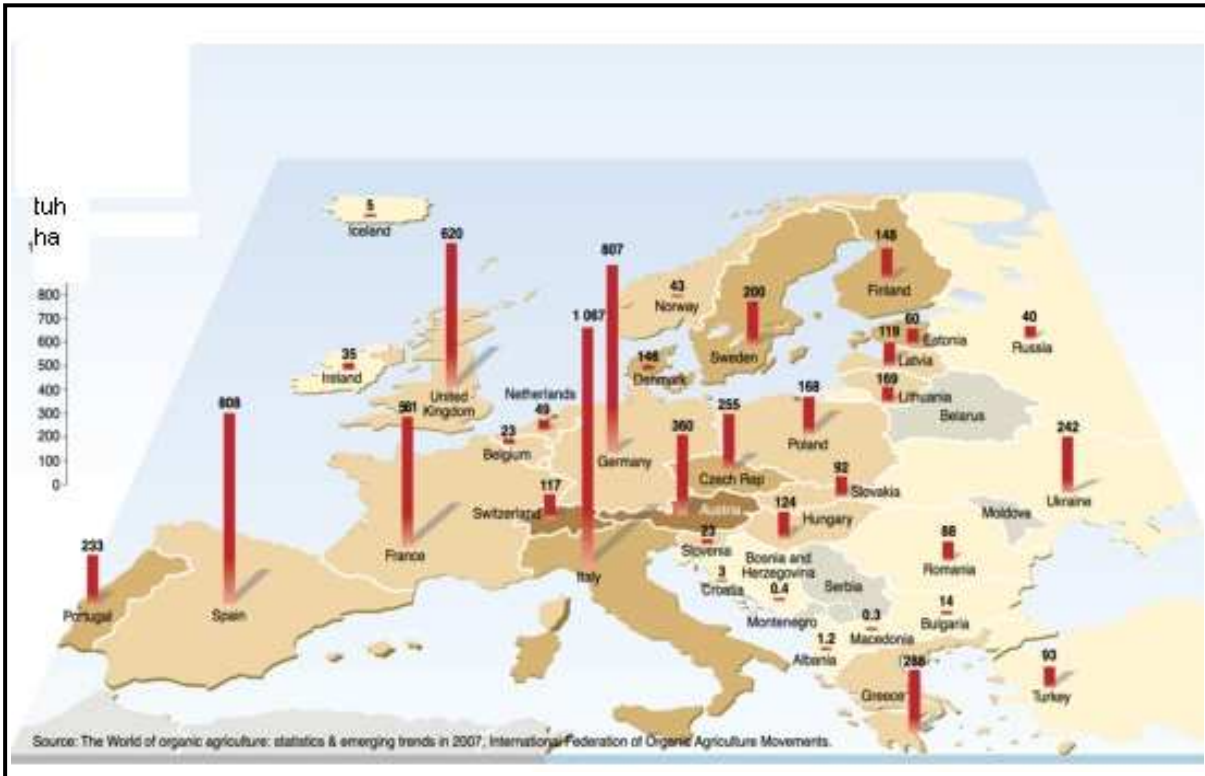
**Põhjenda miks? 2 p**

.....

.....

.....

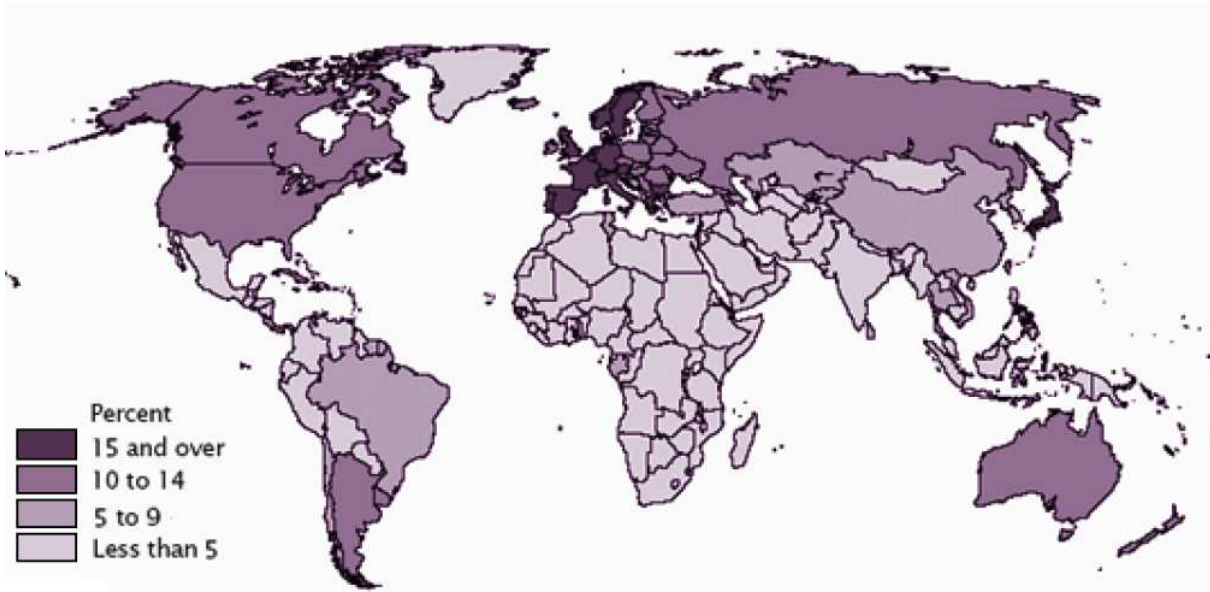
.....



**14. Millistest riikidest on jutt? 2 p**

a) 2010. a. septembris avati selles riigis suurim avamere tuulepark, mis optimaalsete tuuleolude korral suudab varustada elektriga 240 000 majapidamist. Tuuleparke kokku on riigis 250 . .....

b) 2010 aasta kasvas riigi SKT 10% ja prognoosi kohaselt peaks riik aastaks 2020 andma maailma toodangust 18 % . .....



15. Millist rahvastiku näitajat on kujutatud kaardil? ..... 1 p

Nimeta konkreetne riik ja selgita näitajast tulenevaid sotsiaalseid tagajärgi riigile. 4 p

Näitaja	Riik	Sotsiaalne tagajärg
Alla 5%		
Üle 15 %		

Kokku 55 punkti